

Numele:
Prenumele:
Școala:
.....
Învățătoare:
Județul:

ȘCOALA GIMNAZIALĂ „DUMITRU HERA” BĂTEȘTI

PROIECTUL EDUCAȚIONAL REGIONAL

„SUB SEMNUL LUI FLORAR”

MATEMATICA

Clasa a III-a

10 aprilie 2014

1. Află suma numerelor **a** și **b**, dacă :

$$a = 6 \times 5 - 5 \times 5$$

$$b = (1 \times 2 + 3) \times 4 : 5 + 6$$

a) 5 b) 10 c) 15 d) 25

2. Completează cu operații și/ sau paranteze pentru a obține rezultatul indicat.

$$6 \ 6 \ 6 \ 6 = 48$$

a) +, (, x, + b) +, -, (, x c) +, -, x d) -, (, +, :

3. Suma tuturor numerelor de trei cifre care se pot forma cu cifrele 0, 1, 3, (luate o singură dată în formarea numărului), este:

a) 844 b) 310 c) 484 d) 848

4. Dacă dintr-un număr scădem 12 obținem tot 12. Cât obținem dacă-l mărim de 10 de ori?


a) 0 b) 12 c) 24 d) 240

5. Mama, tata și Ionuț au împreună acum 60 de ani. Acum 6 ani, aveau împreună:

a) 42 b) 54 c) 48 d) 57

6. Suma a două numere e egală cu cel mai mare număr par de trei cifre, mai mic decât 800. Știind că primul întrece cu 210 jumătatea lui 500, atunci cel de-al doilea termen este:

a) 336 b) 633 c) 90 d) 338



7. Răsturnatul numărului care are sfertul egal cu dublul numărului 8 este:

- a)32 b)64 c)46 d)23

8. Dacă la jumătatea sumei de 60 de lei aș adăuga sfertul ei, aș putea cumpăra o culegere. Două culegeri vor costa:

- a)54 b)45 c)90 d)80

9. Suma tuturor resturilor posibile în urma împărțirii la 7 este:

- a)7 b)14 c)21 d)28

10. Un melc parcurge laturile unui pătrat într-o oră și 20 de minute. În cât timp a parcurs trei laturi?

- a)60 minute b)20 minute c)30 minute d)45 minute

11. Elena are un album cu 40 de file. Pe primele 16 file sunt așezate 64 de fotografii, pe restul vrea să așeze câte 5 fotografii pe fiecare filă. Câte fotografii va pune în album?

- a)184 b)164 c)144 d)320

12. Pe ambele părți ale unei străzi, de la un capăt la altul, sunt în total 24 de copaci, la distanță de 20 de metri unul de altul. Ce lungime are strada?

- a)46 m b)480 m c)220 m d)640m

13. Radu are 61 de cd-uri în total, cu filme, muzică și jocuri. 46 dintre ele nu sunt cu filme iar 24 sunt cd-uri cu muzică și filme. Câte cd-uri de **fiecare fel sunt?**


RĂSPUNS:.....cd-uri cu filme;.....cd-uri cu muzică;.....cd-uri cu jocuri

Timpul de lucru este de 90 de minute.

SUCCESE!



ȘCOALA GIMNAZIALĂ „DUMITRU HERA” BĂTEȘTI



PROIECTUL EDUCAȚIONAL INTERJUDEȚEAN

„SUB SEMNUL LUI FLORAR”

Limba și literatura română

Numele:
Prenumele:
Școala:
.....
Învățătoare:.....
Județul :.....

Clasa a III-a

10 aprilie 2014

1. Citește cu atenție textul:

“Două pâraiașe alergau spre poalele muntelui.

Deodată, unul îl întrebă pe celălalt:

-Hei, încotro vecine?

-Spre râul cel mare! Dar tu?

-Eu mă gândesc să-mi schimb drumul. În râul cel mare se adună toate pâraiele și este atâta apă încât am să mă pierd fără urmă.

-Așa voi face și eu, se hotărî și al doilea pâraiu.

Și au pornit care încotro. Dar, fiind singure și fără putere, cu apă puțină, s-au risipit printre pietre și le-au secăt vântul și soarele.”

1. În textul de mai sus, personajele care apar sunt:

a) două râuri b) două pâraiașe c) doi oameni d) două viețuitoare

2. Un proverb/o zicală, potrivit/potrivită învățaturii desprinse din text ar putea fi:

a) “Prietenul la nevoie se cunoaște”.

b) “Unde-s doi puterea crește”.

c) “Nu lăsa pe mâine ce poți face azi”.

d) “Cel ce ascultă de sfatul altuia rareori greșește”.

3. "A se pierde fără urmă " înseamnă:

- a) a urmări
- b) a pierde ceva
- c) a dispărea
- d) a urma

4. În propoziția : "Le-au secăt vântul și soarele" sunt:

- a) 5 cuvinte, 8 silabe
- b) 6 cuvinte, 8 silabe
- c) 4 cuvinte, 7 silabe
- d) 6 cuvinte, 9 silabe

5. Care cuvânt nu face parte din seria de cuvinte înrudite :

- a) pietros
- b) împietrit
- c) pietruit
- d) pietate

6. Perechile corecte de cuvinte cu sens opus sunt:

- a) bază-vârf/mare –mic/se adună-se împrăștie/a se porni-a se opri
- b) creastă-vârf/mare-mic/se adună-se unesc/a se porni-a se opri
- c) bază- vârf/mare-mic/se adună-se strâng/a se porni-a se opri
- d) creastă-vârf/mare-mic/se adună –se împrăștie/a se porni-a se urni

7. Seria de cuvinte despărțite toate corect în silabe este:

- a) pâ-râ-ia-șe/ gând-esc/ho-tă-rî/munt-e-lui
- b) pâ-râ-ia-șe/gân-desc/ho-tă-rî/mun-te-lui
- c) pâ-râi -a-șe/gând-esc/hot-ă –rî/mun-te-lui
- d) pâ-r-â-ia-șe/gân-desc/ho-tă-rî/mu-nte-lui

8. Forma corectă pentru persoana a III a, număr plural ,a verbului "a gândi" este:

- a) gândește
- b) gândești
- c) gândesc
- d) gândim

9. Din seriile de corespondențe verb-substantiv ,alege-o pe cea incorectă:

a) a hotărî-hotărâre

b) a risipi-risipă

c) a seca-seacă

d) a porni-pornire

10. Sunt scrise corect toate cuvintele în seria:

a) gândesc, să schimb, se hotărî, pârâu

b) gîndesc, să schinb, se hotărî, pârîu

c) gândesc, să schinb, se hotărâ, pîrâu

d) gândesc, să schimb, se hotărî, pîrâu

11. În propoziția :**”-Hei, încotro vecine?”** virgula se folosește pentru:

a) a marca sfârșitul comunicării

b) a separa elementele unei enumerări

c) a separa o explicație suplimentară

d)) a separa o strigare de restul propoziției

12. În prima propoziție a textului sunt:

a) două adjective, un verb, două substantive

b) un numeral, un verb, trei substantive

c) un adjectiv, un verb, trei substantive

d) două adjective, două verbe, un substantiv

13. Cuvântul **“mare”** poate deveni și altă parte de vorbire decât este deja în text. Acesta ar putea fi:

a) substantiv b) adjectiv c) numeral d) verb

Alcătuiește o propoziție cu noua valoare găsită.

.....

14. Propoziția care respectă schema **verb+numeral+substantiv** este:

a) "Mă gândesc să-mi schimb drumul."

b) "Pârâul al doilea se hotărî."

c) "S-au risipit printre pietre."


d) "Am să mă pierd fără urmă."

15. Alcătuiți două enunțuri în care să folosiți **s-au** și **sau**.

.....
.....

16. Găsiți un alt final ,schimbând ultimul alineat al textului.(*minim două,maxim cinci enunțuri*)

.....
.....
.....
.....
.....
.....
.....



ȘCOALA GIMNAZIALĂ „DUMITRU HERA” BĂTEȘTI

PROIECTUL EDUCAȚIONAL INTERJUDEȚEAN

„SUB SEMNUL LUI FLORAR”

MATEMATICA

Clasa a IIIa

10 aprilie 2014


BAREM DE CORECTARE SI NOTARE

ITEM	VARIANTA CORECTA	Numar de puncte
1	c	5
2	a	5
3	a	5
4	d	5
5	a	5
6	d	5
7	c	5
8	c	5
9	c	5
10	a	10
11	a	10
12	c	10

13.RASPUNS:15 CD-URI CU FILME,9 CD-URI CU MUZICA,37 CD-URI CU JOCURI(15 puncte total-5 puncte pentru fiecare operație și răspuns corect)

61-46=15(cd-uri filme) 24-15=9 (cd-uri muzica) 46-9=37 (cd-uri jocuri)sau 61-24=37(cd-uri jocuri)

Total-90 puncte+10 puncte din oficiu



ȘCOALA GIMNAZIALĂ „DUMITRU HERA” BĂTEȘTI

PROIECTUL EDUCAȚIONAL INTERJUDEȚEAN

„SUB SEMNUL LUI FLORAR”

Limba și literatura română

Clasa a III a

BAREM DE CORECTARE SI NOTARE

Item	Varianta corecta	Puncte acordate
1	b	5
2	b	5
3	c	5
4	d	5
5	d	5
6	a	5
7	b	5
8	c	5
9	c	5
10	a	5
11	d	5
12	b	5
13	a	5(2,5+2,5)
14	b	5

15. **5 puncte-2,5 puncte pentru fiecare enunț corect**

16. **15 puncte-5 puncte originalitate;5 puncte ortografie și punctuație,4 puncte claritatea/coerența formulării răspunsului,1 punct respectarea numărului de enunțuri**

TOTAL:90 puncte+10 puncte din oficiu

